

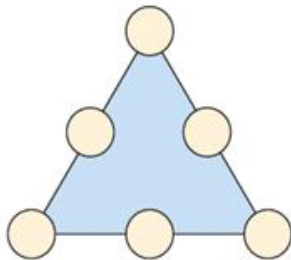


Nombre del Estudiante: \_\_\_\_\_


**ACTIVIDAD N° 10**

**1**

Escribir en los círculos los números 1, 2, 3, 6, 8 y 10, de tal forma de tal forma del centro sea el doble de la suma de los números de los extremos.



**2**




¿Cuál es el número?

Soy un número decimal de cuatro dígitos diferentes.

- Si tuviera apellido sería Décimas.
- La suma de mis dígitos es 12.
- Mi segundo dígito es LA cuarta parte de 8.
- Mi cuarto dígito es LA quinta parte de 20
- De mi tercer dígito se sabe que es primo



**3**



**Completa este cuadrado mágico con los números del 1 al 16**

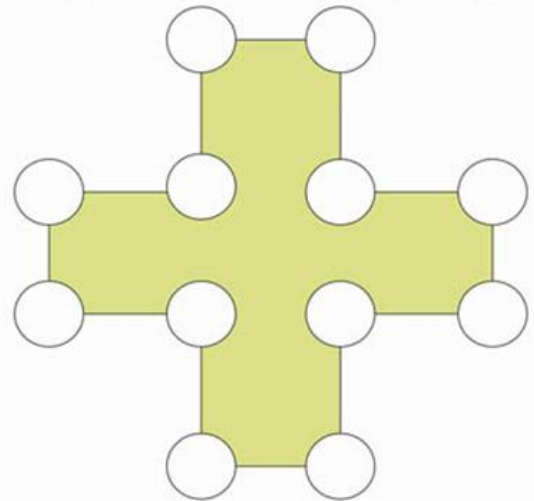
En las casillas con las letras escribe números divisores de 12 en el orden A, B, C, D, E, F

**Suma mágica 34**

**4**

**Signo De la Suma**

Acomode los números del 3 al 14, uno por círculo, de modo que los cuatro vértices de cada uno de los dos rectángulos largos, los cuatro vértices del cuadrado central, y las cuatro líneas de cuatro círculos, sumen igual.



**5**

Escribe los números del 1 al 6 de tal manera que la suma de cada lado sea 9. Solo puedes usar cada número una vez.

